

2023 安徽定向选调 考试模拟卷（二）

综合知识



温馨提示：

- 1、考试内容为行测+申论
- 2、本次考试时间为 150 分钟，请考生合理把握
- 3、本次试卷为大科考试模拟卷



行测部分

常识判断。共 10 题，要求你依据常识作出判断，并选择最为合理的一个。

1. 2022 年 5 月,《求是》杂志发表了习近平总书记的重要文章《正确认识和把握我国发展重大理论和实践问题》。下列不属于文章提出的实现共同富裕的战略目标和实践途径的是 ()。

- A. 要坚持和发挥好党的领导
- B. 要发挥分配的功能和作用
- C. 要完善公共服务政策制度体系
- D. 要在推动高质量发展中强化就业优先导向

2. 党的十九届六中全会审议通过的《中共中央关于党的百年奋斗重大成就和历史经验的决议》总结了党的十八大以来原创性思想、变革性实践、突破性进展和 标志性成果,历史性的指出了“两个确立”的决定性意义。“两个确立”指的是()。

- ①确立习近平同志党中央的核心, 全党的核心地位
 - ②确立习近平新时代中国特色社会主义思想的指导地位
 - ③确立新时代党和国家事业发展道路
 - ④确立中华民族伟大复兴历史任务
- A. ①④ B. ①③ C. ③④ D. ①②

3. 2022 年 4 月 8 日,北京冬奥会、冬残奥会总结表彰大会在北京人民大会堂隆重举行,习近平总书记在大会上发表重要讲话。下列各项与习近平总书记讲话内容不符的是 ()。

- A. 北京冬奥会、冬残奥会中,中国体育代表团首次全项参赛,创造了我国参加冬奥会、冬残奥会的历史最好成绩
- B. 北京冬奥会、冬残奥会的办赛要求是“绿色、共享、开放、廉洁”
- C. 四场开闭幕式精彩纷呈,体现了自然之美、人文之美、运动之美,诠释了新时代中国可信、可爱、可敬的形象
- D. 北京冬奥会、冬残奥会广大参与者在冬奥申办、筹办、举办的过程中,共同创造了胸怀大局、自信开放、迎难而上、追求卓越、共创未来的北京冬奥精神

4. 下列关于 2021 年我国取得的经济成就的说法,错误的是 ()。

- A. GDP 比上年增长 8.1%, 两年平均增长 5.1%
- B. 经济规模突破 110 万亿元, 稳居全球第二大经济体
- C. 全国居民恩格尔系数超过 30%
- D. 人均 GDP 突破 8 万元, 超过世界人均 GDP 水平

5. 2022年5月5日，中共中央政治局常务委员会召开会议，分析当前新冠肺炎疫情防控形势，研究部署抓紧抓实疫情防控重点工作。中共中央总书记习近平主持会议并发表重要讲话。下列关于当前疫情的相关表述，错误的是（ ）。

- A. 目前全球疫情仍处于高位，病毒还在不断变异，疫情的最终走向还存在很大不确定性
- B. 我们要毫不动摇坚持“动态清零”总方针
- C. “动态清零”的意思是“零感染”，力求不出现本土病例
- D. 我们要加快局部聚集性疫情处置，应检尽检、应隔尽隔、应收尽收、应治尽治

6. 第十三届全国人民代表大会第四次会议通过了《全国人民代表大会关于完善香港特别行政区选举制度的决定》“（ ）”原则得到落实，香港由乱到治的局面不断巩固，局势不断向好发展。

- A. 一国两制
- B. 一个中国
- C. 港人治港
- D. 爱国者治港

7. 2022年中国国际服务贸易交易会于8月31日至9月5日在北京举行，主题为“（ ）”，由商务部和北京市人民政府共同主办。

- A. 高端交易平台 服务世界环境
- B. 开放、创新、融合、发展
- C. 创新促合作 服务促发展
- D. 服务合作促发展 绿色创新迎未来

8. 9月3日7时44分，我国在酒泉卫星发射中心使用长征四号丙运载火箭，成功将（ ）发射升空。

- A. 遥感三十一号03星
- B. 遥感三十号02星
- C. 遥感三十二号03星
- D. 遥感三十三号02星

9. 2022年，按照以习近平同志为核心的党中央的部署要求，为稳定宏观经济大盘，稳定上亿市场主体，各部门多措并举优化和落实助企纾困政策，为经济平稳运行提供有力支撑。下列属于“稳主体”对策的是：

- ①实施大规模留抵退税政策
- ②对特困行业实行阶段性缓缴养老保险费
- ③中国人民银行宣布下调金融机构存款准备金率
- ④设立3岁以下婴幼儿照护个人所得税专项附加扣除
- ⑤央行、银保监会发布个人首套房商贷利率下限调整

- A. 2项
- B. 3项
- C. 4项
- D. 5项

10. 中国共产党十九届六中全会决定，党的二十大将于2022年下半年在北京召开。下列有关党的二十大的说法正确的有几项：

①党的二十大，是我们党进入全面建设社会主义现代化国家、向第二个百年奋斗目标进军新征程的重要时刻召开的一次十分重要的代表大会

②代表产生程序的5个主要环节是：推荐提名、组织考察、确定代表候选人初步人选、确定代表候选人预备人选、会议选举

③党的二十大代表的选举要严格资格条件，坚持把政治标准放在首位

④党的二十大代表名额共2300名，与十九大时相同

A. 1项 B. 2项 C. 3项 D. 4项

言语理解与表达。共10题，每道题包含一段话，后面是一个不完整的陈述，要求你从四个选项中选出一项来完成这一陈述。

11. 习近平总书记对话语体系建设高度重视，话语建构成为当下学界不容回避的重要使命。必须看到，我们的话语体系建设长期以来取得了显著成绩，_____。例如，个别话语概念的内涵略显空泛，对真实现实的聚焦和概括不到位；个别话语叙事的路径对大众心理特征和切身感受的把握不清晰；话语概念之间内涵存在交叉重复。要想解决这些问题，就有必要分析话语建构的中西路径及其背后的思维方式，进而从历史中汲取智慧与经舞。

填入画横线部分最恰当的一项是：

- A. 但中国和西方仍存在较为明显的差异
- B. 然而还存在话语概念之间内涵交叉重复问题
- C. 形成了非常具有中国文化特色的话语体系
- D. 但依然存在一些有待深入探讨和解决的问题

12. 受疫情影响，今年一季度外部需求较快下降，扩大内部需求尤其是消费需求成为当务之急。一方面，疫情暴发后催生的各类线上新型消费方兴未艾，应当尽快分析特征、总结规律，在加强监管的基础上有效引导，发掘好潜力，保持住势头。另一方面，在确保安全的前提下，实体商店的消费必须逐步恢复，这对生活服务业、传统产业都将产生提振作用。扩大居民消费也要合理增加公共消费，把钱花到刀刃上。

这段文字主要说的是：

- A. 当前应尽快扩大内部消费需求
- B. 当前需恢复实体商店消费需求
- C. 要有效引导推动线上新型消费
- D. 疫情严重影响了今年社会消费

13. 中国的城市化进一步走向大都市化，中国的大城市的都市（圈）化和城市群不断发育成熟，并成为关键设施、人才智力和资本财富的汇聚平台，而都市圈与城市群外的边缘区域难免出现“收缩型城市”，个别城市甚至出现“空城”“鬼城”“空心化”等问题。此外，我国大部分中小城市仍处于城市化中期，新发展格局的构建将进一步加快内陆地区的城镇化进程，尤其是中西部省会城市人口吸纳能力将明显增强，导致内陆地区中小城市成为“城市收缩”的重灾区。

这段文字意在说明：

- A. 我国内陆中小城市成为“城市收缩”的重灾区
- B. 我国不同城市出现“城市收缩”的原因
- C. 我国需“因地制宜”地构建均衡的城镇化格局
- D. “收缩型城市”是我国城市化发展的衍生品

14. ①中国文化引导着中国人去过一种充满内心喜乐的生活，而这种生活就是一种“乐感”的生命存在方式
②我们中国人，是最讲实用，最讲实惠的。这种讲实用，讲实际，讲实惠，使中国人具有灵活变通的性格，而不会死板固执

③这样的存在方式不仅使我们的生命充满喜乐，让我们的生活充满感恩和乐观豁达

④“乐感文化”说，是上世纪 80 年代提出来的。这种观点认为长期以来，汉民族文化的文化—心理结构，或人的心理本体，有一种实践理性

⑤这种权变，在让中国人变得圆融、圆满、可爱之时，也有一些负面的影响

⑥乐感文化最大的特征是：实用理性

将以上 6 个句子重新排列，语序正确的是：

- A. ④①③⑥②⑤
- B. ④⑥①②⑤③
- C. ⑥⑤①③④②
- D. ⑥⑤①③②④

15. 文化与文明，是一对既有区别又有联系的概念。文明与野蛮相对，是人类社会存在的进步状态；文化，“观乎人文，以化成天下”，是人类在社会实践中创造的社会财富的总和，往往侧重于精神财富。任何时代的、任何地区的任何群体，都会创造出自己的文化，但不一定有文明；不同时代，或同一时代的不同群体，在文明程度上会存在各自的不同差异。史学大家钱穆认为，文化和文明都是指人类的群体生活方式，文化取决于地理环境，文化可以产生文明，但文明不一定产生出文化。文明侧重于外，偏重物质方面。因此，文明可以传播，可以接受，而文化则必须产生于群体内部的精神积累。

下列说法与原文相符的是：

- A. 文化产生于一些群体内部精神积累无法进行传播
- B. 身处同一时代的人们可能存在着一定的文化差异
- C. 文化往往侧重于精神财富而文明侧重于物质财富
- D. 对人类而言文明的重要程度相较于文化更为突出

16. 绝大多数人高中毕业时，只有 18 岁左右，此前的人生都是在家庭与校园的小环境下度过的。他们对社会的复杂性往往缺乏认识，也缺少与人沟通、合作的经验。即使一些外在的技术可以速成，内在的心理素质却需要较长的时间去锻炼。然而，大学是从校园到社会的绝佳过渡——从正面来说，它既有中学的纯粹性和学习氛围，又有社会的多样性和交际环境。从反面来说，它不像高中那样“压力山大”，让我们为一个目标夜以继日，也不像社会那样充满不确定性，我们有较多的机会去历练、去试错。在课堂学习、实习

实训的操作中，学生可以经历潜移默化的蜕变。没有经历过演习的军队，很难在战场上攻城拔寨，而人生也正是如此。

最适合做这段文字标题的是：

- A. 大学校园是学生进行锻炼的最佳场所
- B. 精彩的人生需要不断地去历练和试错
- C. 大学校园是走进社会前的一个缓冲区
- D. 浅析大学对学生心理素质形成的意义

17. 精神分析学派认为个体存在补偿心理机制，即在某一方面无法达成目标时，会有意识地采取其他路径代偿由于该不足而形成的无助感。补偿心理是一种心理适应机制，当代青年生活于互联网时代，网络也影响和塑造青年一代。当代青年人越来越习惯用文字、用符号来代替面对面的语言沟通，以至于会产生现实情境中面对面社交的恐惧和回避，现实情境的情感表露变得越来越困难。互联网提供了补偿性平台，使社交能力缺乏、社交技巧生疏的年轻人可以在线自由倾诉和情感交流，弥补他们现实人际关系发展不良的缺憾。这段文字强调的重点是：

- A. 互联网平台为当代青年人提供了现实情境的补偿
- B. 网络使得当代年轻人羞于在现实生活中表达感情
- C. 补偿心理机制的内涵及其在个体社交关系中的应用
- D. 应鼓励当代年轻人走出去多进行面对面的语言沟通

18. 紫色土之所以得名，和其色泽有很大的关系，紫色土的紫色不褪色，土里大多富含钙质和磷、钾等营养元素，在四川盆地的丘陵地区中属于较肥沃土壤，比较适合农业生产。紫色土的发育程度比红壤和黄壤要晚一点，属于化学风化微弱的土壤，呈中性至微碱性反应。由于母质存在差异，不同的紫色土中石灰含量也有所不同。虽然紫色土有丰富的矿质养分，但是由于紫色土一般分布在地形起伏明显的丘陵坡地，水土流失不断发生，紫色土土层浅薄，造成植被生长状况较差，导致紫色土的有机质和全氮含量一般不高，而且表土也没有明显的腐殖质聚积层。

下列说法与文段相符的是：

- A. 红壤和黄壤的发育程度一般要比紫色土壤晚一些
- B. 紫色土因有机质和含氮量不高而不利于植被生长
- C. 我国紫色土主要分布在四川地形起伏明显的丘陵
- D. 紫色土壤含有丰富的矿质养分比较适合农业生产

19. 每当我们刷微博或抖音时，大脑中都会有一个期待：会不会出现新的消息或短视频，这就使奖赏回路被激活，刺激人体持续产生多巴胺，从而使我们变得兴奋，不停地把手机刷下去。可一旦把手机放下，兴奋感稍一减退，人就会变得不安。为了缓解焦虑，人们希望再次获得多巴胺，于是又打开手机……周而复始之下，这就使奖赏系统变得越发敏感，越来越容易被激活。从行为主义心理学角度来看，这样的行为使人陷入了“刺激—愉悦—愉悦强化—成瘾”的消极循环中。

这段文字意在说明：

- A. 对新事物的好奇能够激活奖赏系统
- B. 刷手机成瘾本质上是填补生活空虚
- C. 多巴胺带来的兴奋感缺乏可持续性
- D. 人们会陷入刷手机成瘾循环的原因

20. 《中国诗词大会》的节目内核便是对古诗词的鉴赏，通过互动竞技的节目设置唤醒大众的文化记忆进而强化文化认同感。大众对过去的认知是一种文化建构与再现的产物。从发展历程来看，中国的文化类节目植根的土地是精英文化语境，如何弥合与大众文化之间的错位与裂缝成为此类节目的症结。《中国诗词大会》难能可贵之处是在娱乐化的浪潮下选择主动拥抱了传统文化，以一种怀旧的姿态来回望过往。《中国诗词大会》的出现迎合了大众对于文化产品的诉求，无论是内容还是形式，节目都在极力塑造一种隽永的文化氛围，大力赞扬古往今来文豪身上的美好品格以唤醒人心深处的善美。

以下对文段理解正确的是：

- A. 我国文化类节目能消除精英和大众的文化裂缝
- B. 《中国诗词大会》迎合了大众的文化产品诉求
- C. 中国文化类节目在娱乐化浪潮下拥抱传统文化
- D. 《中国诗词大会》具备文化类节目的非竞技性

数量关系。共 5 题，每道题呈现一段表述数字关系的文字，要求你迅速、准确地计算出答案。

21. 甲、乙两辆火车从 A 地往 B 地运输 700 吨煤，甲车满载运输 3 次后，乙车加入并与甲车共同满载运输 5 次完成任务，此时乙车比甲车少运输 $\frac{1}{4}$ 的煤。问如果乙车单独完成运输任务且每次都满载运输，则最后一次运多少吨煤？

- A. 30
- B. 40
- C. 45
- D. 50

22. 某地开展“315”食品安全专项检查行动，监管部门安排 25 名执法人员到区域内 7 家农贸市场进行不间断巡查监督。要求每家农贸市场至少有 3 名执法人员巡查，则这 7 家农贸市场执法人员人数的分配方案有多少种？

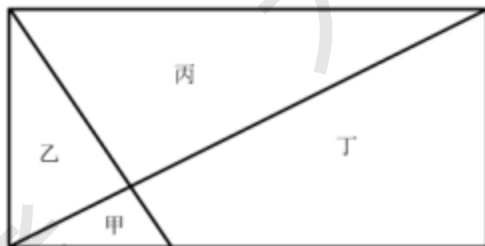
- A. 120
- B. 150
- C. 180
- D. 210

23. 一条直线跑道上，甲、乙两人分别从跑道两端 A、B 两处同时出发相向而行，并进行往返运动。已知甲出发 1320 米后与乙相遇，此时乙按一定的比例提速后继续前进，甲的速度保持不变。6 分钟后乙到达 A 处，又过了 5 分钟两人恰在中点处第二次相遇。问甲的速度是多少？

- A. 200 米/分钟
- B. 220 米/分钟
- C. 160 米/分钟
- D. 180 米/分钟

24. 如图所示，一块矩形花坛被篱笆分成了甲、乙、丙、丁四个区域，已知甲区域的面积为 1 平方米，乙区域的面积为 3 平方米。现要在四个区域种植红花、黄花、蓝花、紫花，且每个区域种植花的颜色不同。四

种花的价格分别为红花 2 元/平方米、黄花 3 元/平方米、蓝花 5 元/平方米、紫花 7 元/平方米，问种植花至少花费多少元？



25. 甲、乙两人进行 7 局 4 胜的羽毛球比赛，已知前 2 局甲全胜，且甲单局获胜的概率都是 60%，则甲获得此次比赛胜利的概率：

- A. 低于 80%
- B. 在 80%~90%之间
- C. 在 90%~95%之间
- D. 超过 95%

定义判断。共 5 题，每道题先给出一个概念的定义，然后分别列出四个选项，要求你从中选出一个最符合或最不符合该定义的答案。注意：假设这个定义是正确的，不容置疑的。

26. 利他素是一种由个体释放并能引起他种生物行为反应的化学物质，行为反应有益于接受者。

根据以上定义，下列涉及到利他素的是：

- A. 草原犬鼠在发现天敌时会发出警报声，以警示家族成员们可以及时进行躲避
- B. 黑胡桃的根可以分泌有毒物质核桃醌，能够杀死周围的番茄、苹果树等植物
- C. 蕙兰花瓣上长有许多斑点来伪装花蜜，吸引昆虫来觅食，以达到传粉的目的
- D. 蚜虫分泌的蜜露具有一种特殊的气味，这种气味会吸引其天敌寄生蜂来捕食

27. 排污权交易是一种基于总量控制，以市场为主要调控手段的环境管理方法。它能够在一定区域内，在污染物排放总量不超过允许排放量的前提下，使得各污染源之间通过货币交换的方式相互调剂排污量，从而达到减少排放量、保护环境的目的。

根据以上定义，下列属于排污权交易的是：

- A. 某区的工业污水排放量和废气排放量均已超标，于是该区政府通过该市的交易中心从邻区购买了部分盈余指标
- B. 某环保部门将 A 工厂的多余的排污指标划拨给排放量超标的 B 工厂，合理有效地调整了本区域内部排放指标的分配
- C. 甲企业今年 COD 排污指标为 1000 吨，实际只需求 800 吨，于是它将多余的排污指标通过交易平台拍卖给了某环保科技企业
- D. 某钢铁企业今年分配到的排污指标为 2000 吨，截至年中已消耗 1500 吨，于是该企业用一批低价钢材和某工厂交换排污指标

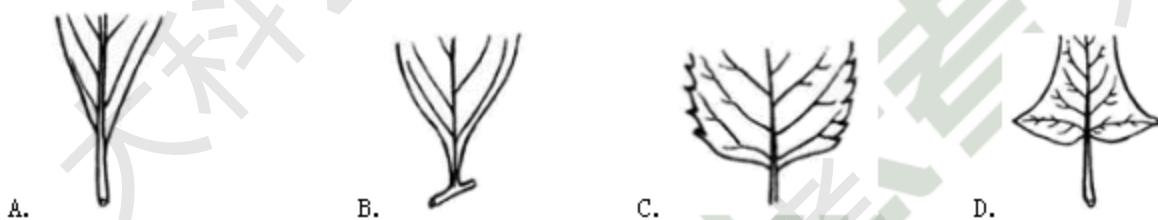
28. 撂荒地指开垦耕种一段时间后因肥力减退、产量下降而停止耕种的土地。

根据上述定义，下列属于撂荒地的是：

- A. 一块产量比较低的古老耕地
- B. 一块未种植作物被废弃的耕地
- C. 一块因肥力下降不再使用的牧地
- D. 一块因灾害变为盐碱地而荒芜的耕地

29. 叶基是指叶片靠近茎杆的先端约三分之一的部分，亦称基部、下部。中部以下向基部两边逐渐变狭如楔子的，为楔形叶基；基部两侧逐渐内弯变狭，与叶尖的渐尖类似，为渐狭叶基；基部两侧各有一向外伸展的裂片，裂片通常尖锐，为戟形叶基；基部平截成一直线，好像被切去的，为截形叶基。

根据以上定义，下列是渐狭叶基的是：



30. 扩喻是本体和喻体不在一句话中，它们分别构成短句，常常组成平行句式，有时本体在前，有时喻体在前，不用比喻词，但比喻的意思却很明显；缩喻是本体和喻体都出现，但不出现比喻词，是一种本体与喻体极其紧密地连在一起的比喻形式。

根据以上定义，下列使用了缩喻的诗句是：

- A. 浮云游子意，落日故人情
- B. 大漠沙如雪，燕山月似钩
- C. 飞流直下三千尺，疑是银河落九天
- D. 日出江花红胜火，春来江水绿如蓝

逻辑推理。共 5 题，每道题给出一段陈述，这段陈述被假设是正确的，不容置疑的。要求你根据这段陈述，选出一个答案。注意：正确的答案应与所给的陈述相符合，不需要任何附加说明即可以从陈述中直接推出。

31. 美国密苏里大学的心理学家们研究称，酸奶中的益生菌不仅对消化有益，还有助于治疗人类抑郁症。心理学家们对水族馆的斑马鱼进行了观察，他们发现斑马鱼长时间位于水底，处在十分抑郁的状态，而当它们摄入益生菌后，其行为发生大幅改变：这些斑马鱼变得更有活力，其抑郁症状明显减轻。

以下哪项如果为真，最能削弱上述心理学家的观点？

- A. 斑马鱼这种鱼类经常被科学家们用于人类神经行为学的研究
- B. 人每天摄入的酸奶超过两杯才能使益生菌发挥改善抑郁症状的作用
- C. 人类的抑郁症成因极其复杂，与斑马鱼的抑郁症发病机理完全不同
- D. 酸奶基本是酸酸甜甜的味道，可以让人心情愉悦，忘记抑郁的状态

32. 研究人员发表在国际杂志上的一份研究报告中称, 有机食物含有更高水平的微量元素。因此与摄入一般食物的人群相比, 那些选择有机食物作为主要食物的人群患癌症的几率会稍微下降, 尤其是患淋巴瘤和绝经后患乳腺癌的几率。

以下哪项如果为真, 最能支持上述结论?

- A. 微量元素能加速体内自由基的分解, 致使癌细胞缺氧死亡
- B. 我国某地区食管癌发病率高, 该地饮食中锰含量非常低
- C. 某癌症研究组织建议人们在日常生活中多食用有机食物
- D. 数据显示, 癌症患者体内微量元素的含量不及非癌症患者

33. 某研究团队用真空干燥法将蔬菜叶粉碎, 并使用一种热压技术将其压成建筑材料。测试表明, 这种建筑材料的强度是混凝土的三倍, 而且此种建筑材料暴露在空气中四个月后没有变质和变味。所以有人认为, 可以通过将回收的废弃蔬菜叶做成建筑材料来减少食物浪费。

要得到上述推论, 还需基于以下哪一前提?

- A. 回收蔬菜叶制成建材的成本显著低于普通建材的制作成本
- B. 蔬菜叶制成的建材符合国家各项标准且真正能够投入使用
- C. 政府有意愿出台相关政策, 鼓励废弃蔬菜叶的回收利用
- D. 废弃蔬菜叶造成的食物浪费已经到了需要大力解决的地步

34. 如果诗句“但使龙城飞将在, 不教胡马度阴山”为真, 以下哪一项不可能为真?

- A. 龙城飞将在是胡马不度阴山的必要前提
- B. 除非龙城飞将不在, 否则胡马不度阴山
- C. 龙城飞将早已不在, 胡马可能已度阴山
- D. 虽然龙城飞将还在, 但是胡马已度阴山

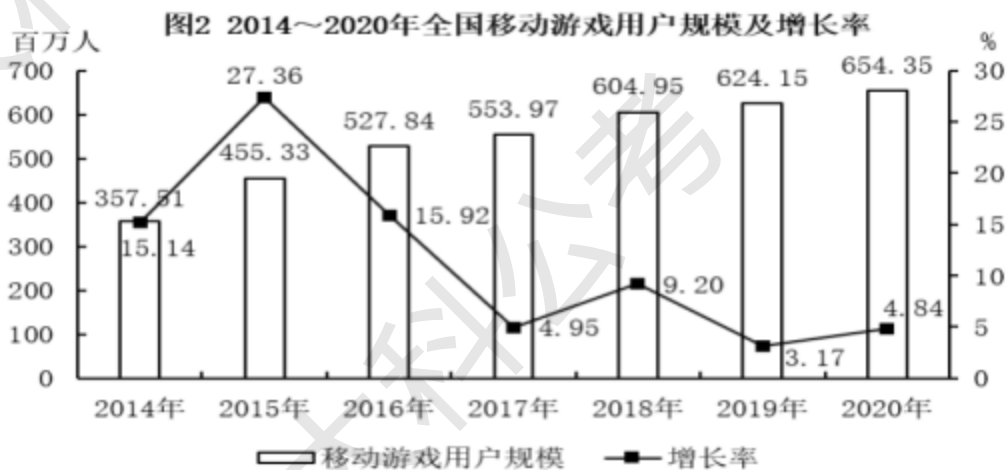
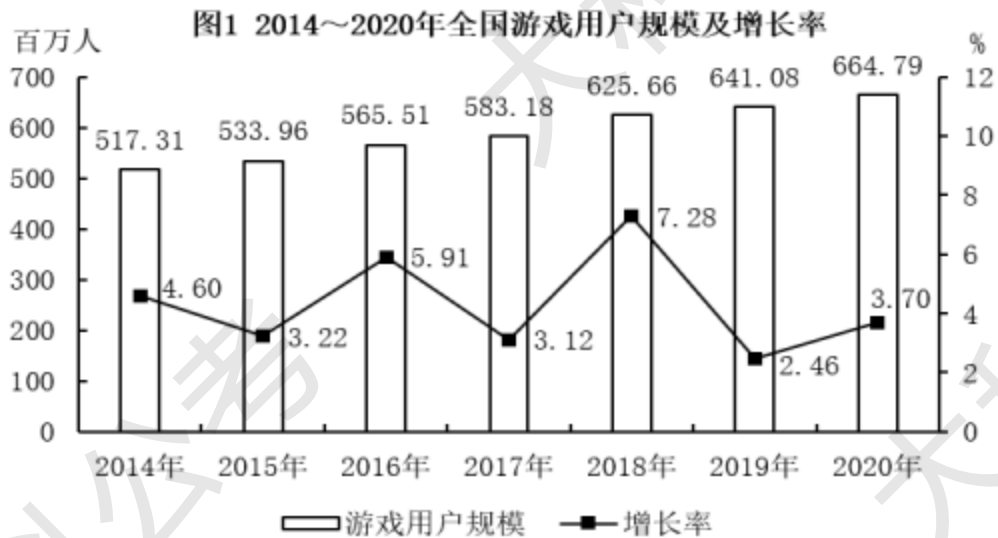
35. 某大学在全校范围内以投票形式进行调查, 评选本校最受学生欢迎的老师, 最终法律系的罗老师获得三分之二以上的票数, 因此学校评定罗老师是本校最受学生欢迎的老师。

以下哪项如果为真, 最能削弱学校的结论?

- A. 学校有一部分学生没有参与这项投票, 他们根本没有关注到这个活动
- B. 只有票数超过全校学生的一半才能当选, 参与投票的人数不到总数的一半
- C. 在投票页面的设计上, 罗老师的名字被放在投票页面最醒目的位置
- D. 参与投票的学生中有一些是随便选的, 他们根本不了解这些老师

资料分析。共 5 题, 要求你根据下列资料所提供的信息进行分析、比较、计算和判断处理。

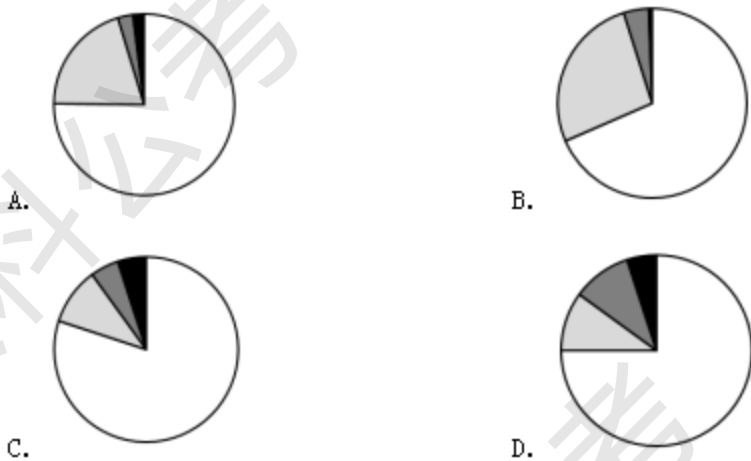
2020 年, 全国游戏市场实际销售收入 2786.87 亿元, 同比增长 20.71%。其中, 移动游戏市场实际销售收入 2096.76 亿元, 同比增长 32.61%; 客户端游戏市场实际销售收入 559.2 亿元, 同比下降 9.09%; 网页游戏市场实际销售收入仅为 76.08 亿元, 同比下降 22.9%; 其他游戏市场实际销售收入 54.83 亿元。



36. 2020年, 全国游戏市场平均每百万游戏用户实际可产生销售收入约多少亿元?

- A. 3.2 B. 3.7 C. 4.2 D. 4.7

37. 下列图形能够准确反映 2020 年我国各类游戏市场实际销售收入比重构成的是:



38. “十三五”期间，全国移动游戏用户规模年均约增长多少亿人？

- A. 40 B. 0.32 C. 0.49 D. 0.4

39. 2014~2020年，全国移动游戏用户规模占游戏用户规模的比重较上年有所提高的年份有几个？

- A. 4 B. 5 C. 6 D. 7

40. 能够从上述资料中推出的是：

- A. 2019年，全国客户端游戏市场实际销售收入是网页游戏市场实际销售收入的7倍多
B. “十三五”期间，全国游戏用户规模的同比增量逐年增大
C. “十三五”期间，全国移动游戏用户年均规模超过6亿人
D. 与2013年相比，2020年全国移动游戏用户规模翻了一番多

主观题申论

给定资料：

1. 诚毅学院的晓峰（化名）说，自己住的学生公寓，一层楼上就有3个人在卖四、六级考试的答案和作弊用的耳机。

四、六级的答案分“考前”和“考中”两种，购买“考前”答案的同学在开考前的10分钟可以通过手机收到答案，设法带进考场。“这种答案的准确性值得怀疑，很多人都是购买‘考中’答案。”晓峰说，“但购买‘考中’答案的人一般还要购买耳机，否则接收起来很不方便。”

另一名同学告诉记者，卖答案和耳机是这半个月来学校里最火的“生意”，很多学生甚至开始倒卖，因为买的人多，今年的四、六级答案价格比去年有所提升。四级答案在300元至500元之间，而六级的答案开口价就是1000元，还不能还价。作弊用的耳机价格在30元至100元之间，“卖家转手的次数越多，价格也越高”。

2. 考试是广大学生最为关注的一个话题。面对考试，每位学生都应该自觉地维护考风考纪，诚信考试，做文明大学生。

学风建设是大学校园一个永恒的话题，是实现培养高知识、高技能人才的必要条件，是一个系统的教育工程。优良学风的形成，考风是关键，考试作为人才培养过程中的一个重要环节，是检查教学质量的一种主要手段。优良的考风考纪不仅关系到学校的生存和发展，也关系到同学们的前途和未来，从科学和长远的角度分析，考试作弊对考生身心及长远发展的危害是不容忽视的：一方面，作弊作为一种欺骗行为，必然引起本人的紧张不安，产生不必要的考试焦虑而影响答题，且一旦作弊失败，同学们通常会因为羞愧、失望和沮丧等不良情绪的产生而影响下一科目的考试，甚至还可能在较长时间内存在心理上的“阴影”。另一方面，同学们虽有可能通过作弊在某次考试中获得高分，但这并不能衡量该生真正的知识水平，更不利于该生今后学习的改进和工作的开展。因此，自觉克服各种不良因素的影响，彻底打消作弊念头，还考试以真实面目，才是同学们明智的选择。

“以诚实守信为荣，以见利忘义为耻”。诚信是国民的基本道德，是一种品行，更是一种责任；是一种道义，更是一种准则；是一种声誉，更是一种资源，这一点已得到了全社会的普遍认同，已成为评价人必不可少的标准。当前社会的激烈竞争，一方面是知识水平的竞争，另一方面是道德水平的竞争。要想在激烈竞争中立于不败之地，赢得他人与社会的尊重，大家就应该从现在做起，扎扎实实地学习知识，打好基础，提高自己，锻炼综合能力，诚信做人，诚实地对待每一件事情，每一场考试。

3. 大学生使用信用卡后，逾期不还的现象持续上升。来自重庆市多家银行的消息称，银行信用卡的不良记录通常在但学生信用卡不良率却普遍高于 5%，部分大学生今后在银行的信用记录让人担忧。

据重庆市一银行信用卡中心负责人透露，截至目前，学生信用卡的不良率超过 4%，并且还呈现上升趋势。这家银行的学生信用卡不良率还算低的。有的银行表示，学生信用卡不良率普遍高于 5%。

“这不仅影响大学生的信用记录，而且一旦毕业后贷款购房或买车，银行可能拒绝为其办理，至少贷款利率会提高。”人民银行重庆营管部人士担心地表示。

据悉，目前学生使用信用卡后，不良率主要体现在逾期不还贷款，或用信用卡取现后拖欠不还，定期还款但还款额度不足。

多家银行人士表示，不管金额多少，凡是逾期不还贷款连续超过 3 个月，或一年内逾期次数累计超过 6 次，银行都会认为是信用状况不好的对象。

4. 近日，天津大学某学院的一名硕士生与工作单位签约后又违约，为此，该学院将这名硕士生提交的《违约申请》在校园网上进行了公示。据了解，对毕业生违约行为进行公示，这在天津市高校中尚属首次。

公示表明：xxx 为 x 学院硕士生，该毕业生以家长不同意为理由，提出违约申请。原签约单位表示，签约前已给予签约者与其家长商量的时间，签后即违的行为对单位的正常工作造成很大影响，并希望其能在单位工作。记者随后了解到，被公示的这名硕士生，其原签约单位和拟签约单位为同一集团下两个业务范围基本不同的不同分公司。

根据这项“违约公示”，记者与发布公示的天津大学某学院取得了联系。“对违约学生进行公示，我们已经考虑了很长时间该学院负责学生工作的党委副书记席老师告诉记者：”在进行公示前，已经和学生本人谈过话，并征得了他的同意。学院这么做，是为了维护更多学生的利益。”

该学院负责研究生就业的郭老师表示，一些毕业生对签约的问题不够慎重，有的人今天刚签完一家单位，转天就要违约，还有人只因为别的单位每月多给 100 元工资，也要提出违约。“毕业生的违约行为是在透支学校和学院的诚信，甚至严重影响下一届学生的就业，一些以前合作很好的大单位现在都不想要我们的毕业生了，对违约行为进行公示也是希望同学们能慎重对待签约，营造诚信氛围。”

5. 西南大学日前在国内首次推出古诗体《大学生诚信守则》和全新的大学生诚信网络考核系统大学生在校恋爱”是否存在欺骗他人感情”的情况都将作为是否诚信的评判因素之一，计入系统接受统一评分。

诚信，是一个很抽象的概念。尽管这些年，人们不断地在推崇各种诚信，但寄托在很多利益思想中的诚信根基总是在不经意中成了烂根。

缺乏诚信是一个可怕的现象，尤其是表现在大学生中，没有诚信，更似一种价值观念的失守和沦陷。在大学中，越来越多的大学生欠费问题就是一个例子。尽管很多大学生拖欠学费确实是由于家庭困难以及

个人就业难等客观原因造成的，但在庞大的欠费毕业生中，不乏一些存在侥幸及将诚信当成儿戏的大学生群体。这种恶意的欠学费现象，其实已经在呼唤大学生的诚信教育和诚信建设。

在这种背景下，《大学生诚信守则》的出台和试运行，其实是相关部门对大学生诚信缺失的一种挽救。而利用辅导员和班主任来给学生的诚信打分，一方面是强化辅导员和班主任在学生管理上的涵盖面和职责，另一方面更是在大学生综合管理上一种有的放矢的集合。

6. 在德国，写论文和考试一样，需要事先到学校的考试中心登记，登记必须在 3—6 个月内完成，如果不登记，即便完成了论文也没有资格答辩。登记 1 个月内，参加答辩的学生会收到一堆表格：有通知交论文的时限、有需要签字的公开答辩志愿书、有答辩评审组成员名单、还有毕业庆典邀请信等等。论文答辩只有一次机会，如果没有通过，将不能在同一所高校继续答辩。

在美国，每门课一个学期一般要写 3—4 篇论文。为了完成论文，学生们就得大量读书、上网。虽然书籍和网络各种相关资料应有尽有，但是信手拈来恐怕不行。每门课开课的第一天老师就会告诫大家，不许抄袭。引用别人的话，就要注明出处。即便不照抄人家的原话，而是用自己的话表述，也是剽窃了人家的观点。凡是抄袭，一旦发现，轻则警告，重则开除。因此，美国大学生写论文很少有东拼西凑、蒙混过关的，他们必须好好动脑筋，展示出自己的观点和论据。出勤率、作业、发言、期中考试、期末考试、论文，这些都要算在最后的总评成绩里，一样都不能疏忽，所以大多数美国学生都认为大学学习十分辛苦。至于毕业论文，绝大多数美国大学的本科生是不用写的，只有普林斯顿等很少的几所大学要求本科生写毕业论文。即便如此，美国还是有不少大学生不能按时修完所有的学分，推迟毕业的现象非常普遍。

7. 最近，南京的晚报披露了一份南京师范大学教育学院针对南京高校研究生诚信状况进行的一次专业心理调查，结果表明：至少有 1/4 的研究生并不抵触在求职中改变自己的履历，进行造假行为，具有造假倾向。大学生的“诚信”形象遭遇前所未有的“危机”。

在世人面前，这种造假行为让造假者失去了“诚信”；而在法律面前，他们为自己挖的则是陷阱；劳动合同面临无效、到手的薪金还要吐出来、还有可能被索赔损失！而在为简历“注水”时，对后者他们也许并不详知。

记者近日约见了几个正在求职的毕业生，他们谈了几种不同情况的简历造假现象。

某经贸学院应届硕士毕业生小王：现在大学生的简历哪有不造假的啊？只是程度不同而已。胆儿大的说得夸张点，胆儿小的也能给自己安个班干部、优等生什么的。我读本科时，做过个人网页，我就把这点“本事”说成了我当过网络团队领导。你要是实在没有过工作经历，可以写你在学校的社团经历啊，谁去调查？要说正常包装你实在不会，可以上网，网上就有专门的网站教你如何写简历。

某研究生院毕业生小于：目前，毕业生学历做假的还真不多，因为一般学校的毕业证书网上都能查，是真是假，一查就查出来了。

现在做假证太简单了，但我们没必要办假证，如今假证在城里不好使，最多在边远的乡镇、县城还能骗骗人。城里的学生在学历上做假，也就是找“枪手”帮忙考个四级证书、六级证书。我就替人考过三次四级考试。

社科院刑法研究生小张：当然，也有大骗的，像自考本科生刘 X 冒充北大博士在郑州出事就是个例子，但那例子太个别。与其说刘 X 胆子太大，不如说被他骗的人责任心太差，这个骗子把整个简历都改了，学

习和工作经历都是虚假的、编造的，郑州航院却把他作为高级人才招聘到该院工作。后来还是因为他对航院给他的待遇不满才引起郑州航院调查的，这才发现刘的众多信息均为虚假情况，才向警方报案，检察机关已经以涉嫌诈骗罪对刘 X 提起公诉。

8. 备受关注的东北财经大学一硕士论文涉嫌抄袭事件有了最终结果，东北财经大学学位评定委员会作出决定，抄袭者袁 X 被撤销硕士学位，收回已发放的硕士学位证书。

东北财经大学出台的《东北财经大学学位评定委员会关于撤销袁 X 硕士学位的决议》指出，经查实，该校研究生袁 X 的硕士学位论文，系抄袭南京财经大学研究生曾康宁的硕士学位论文。袁 X 的抄袭行为违反了国家和学校的相关规定。

东北财经大学副校长马国强说，此论文属于比较严重的抄袭。本着对学生本人负责的态度，他还特地到学生所在单位进行了沟通，据学生介绍，这篇论文是通过南京财大的同学“收集”到的。最终，学校作出了上述决议。

作答要求

(一) 根据给定材料中所反映的大学生诚信缺失的现象，谈谈你认为导致这一现象产生的原因有哪些？字数控制在 400 字左右。

(二) 根据给定材料，以“加强大学生诚信教育的几点建议”为题，写一篇对策性文章。要求：中心突出，观点正确，内容充实，富有新意，语言顺畅。篇幅控制在 1200 字左右。

